



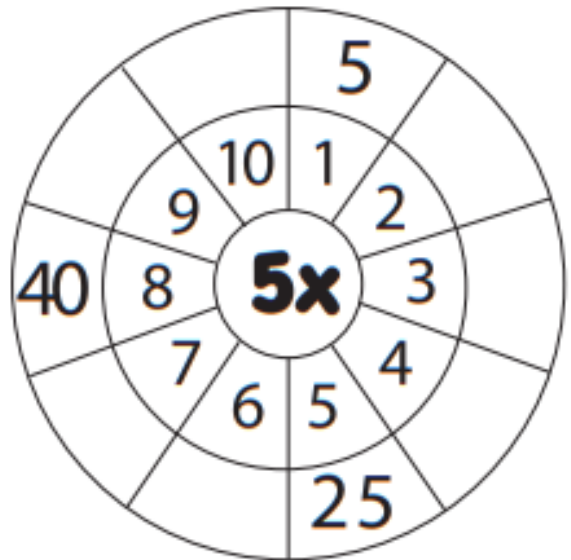
TABLA DEL 5

PRÁCTICAS DE CLASE

Tabla del



Completa la rueda.



Completa la secuencia de los multiples del 5.



Colorea los multiples del 5.



Resuelve las operaciones.

$5 \times 6 = \underline{\quad}$

$5 \times 2 = \underline{\quad}$

$5 \times 3 = \underline{\quad}$

$5 \times 9 = \underline{\quad}$

$5 \times 1 = \underline{\quad}$

$5 \times 5 = \underline{\quad}$

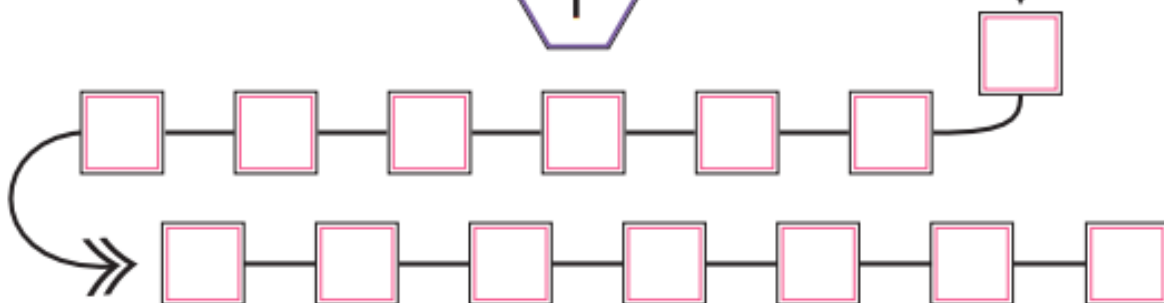
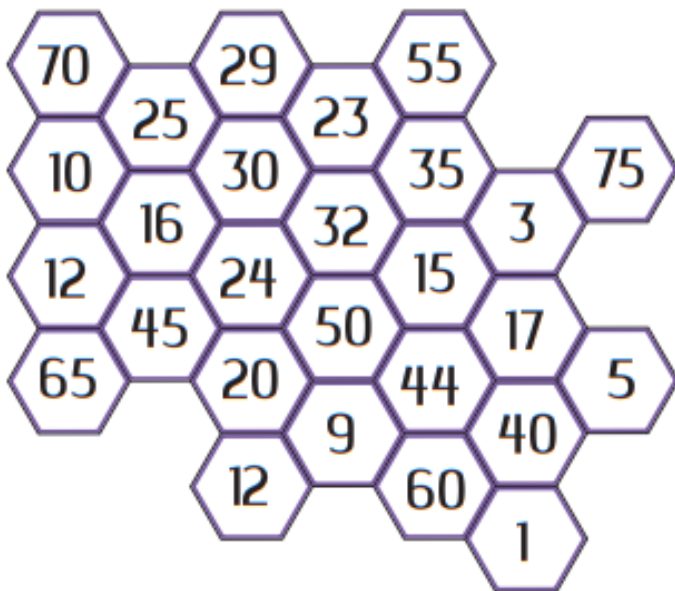
$5 \times 8 = \underline{\quad}$

$5 \times 4 = \underline{\quad}$

$5 \times 7 = \underline{\quad}$

$5 \times 10 = \underline{\quad}$

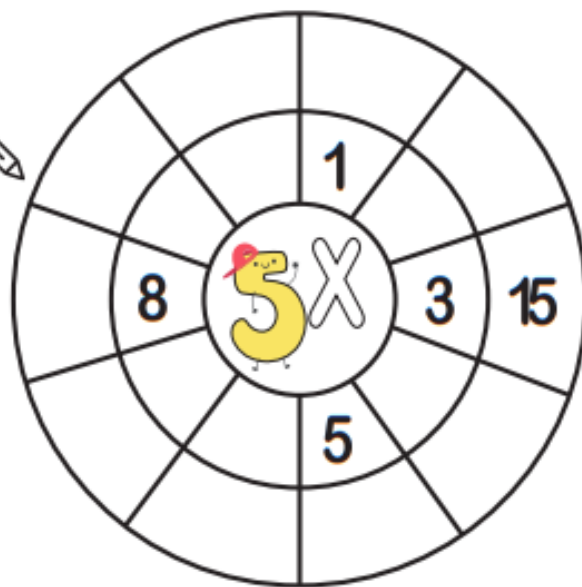
 **Colorea los múltiplos del 5 y ubícalos en orden en el camino del número**



$5 \times 5 =$	
$5 \times 3 =$	
$5 \times 1 =$	
$5 \times 9 =$	
$5 \times 7 =$	
$5 \times 2 =$	
$5 \times 6 =$	
$5 \times 4 =$	
$5 \times 10 =$	
$5 \times 5 =$	

Completa la Ruleta 

Resuelve las Operaciones 



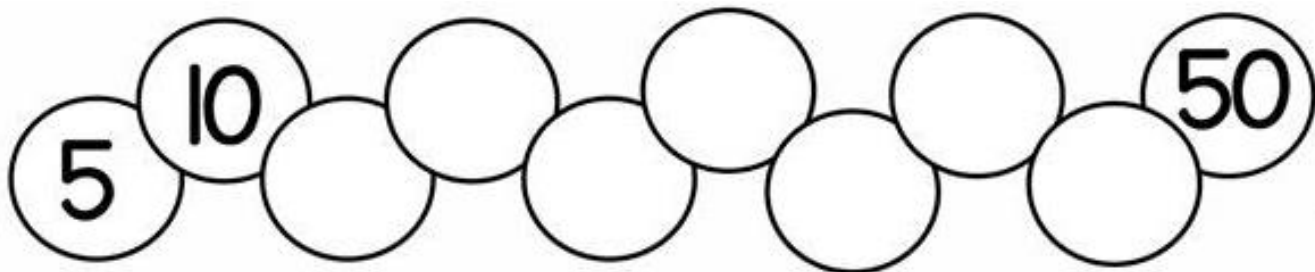
Completa la tabla del 5.

$5 \times 1 =$	<input type="text"/>
$5 \times 2 =$	<input type="text"/>
$5 \times 3 =$	<input type="text"/>
$5 \times 4 =$	<input type="text"/>
$5 \times 5 =$	<input type="text"/>
$5 \times 6 =$	<input type="text"/>
$5 \times 7 =$	<input type="text"/>
$5 \times 8 =$	<input type="text"/>
$5 \times 9 =$	<input type="text"/>
$5 \times 10 =$	<input type="text"/>



Ayuda al caracol a llegar a la meta completando la serie del 5.






Colorea las manzanas de los resultados de la tabla del 5

Completa la tabla del 5

$5 \times 1 =$	<input type="text"/>
$5 \times 2 =$	<input type="text"/>
$5 \times 3 =$	<input type="text"/>
$5 \times 4 =$	<input type="text"/>
$5 \times 5 =$	<input type="text"/>
$5 \times 6 =$	<input type="text"/>
$5 \times 7 =$	<input type="text"/>
$5 \times 8 =$	<input type="text"/>
$5 \times 9 =$	<input type="text"/>
$5 \times 10 =$	<input type="text"/>




	5			20				40	45	
0			15				35			50
		10			25				45	
	5			20		30				50
			15				35	40		
0		10							45	
				20	25					50
	5		15			30			45	
0		10	15		25		35	40		
						30			45	
	5	10			25					50
0			15	20			35			
						30			45	
0		10	15	20				40		
	5	10					35			50
0			15		25	30			45	
0		10		20			35			50
	5		15			30		40		
0		10			25		35		45	

La tabla del 5

A puro ritmo

A cada candombero le corresponde su tambor. ● Unilos con una →.



¿Con quién baila?

Este candombero busca a su compañera. ¿Cuál será?

● Descubrila pintando los cuadraditos que contienen los resultados de la tabla del 5.



0	3	6	8	16	7	3
2	5	9	28	17	4	27
4	10	12	3	7	2	14
6	8	15	11	25	30	35
12	9	18	20	3	7	40
16	17	2	27	9	18	45
24	19	16	13	1	41	50
21	12	18	3	14	9	7
33	3	41	31	19	26	25

