

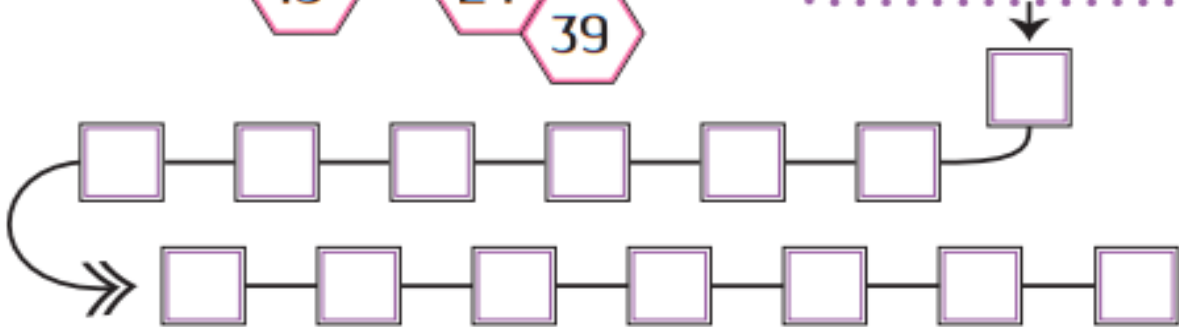
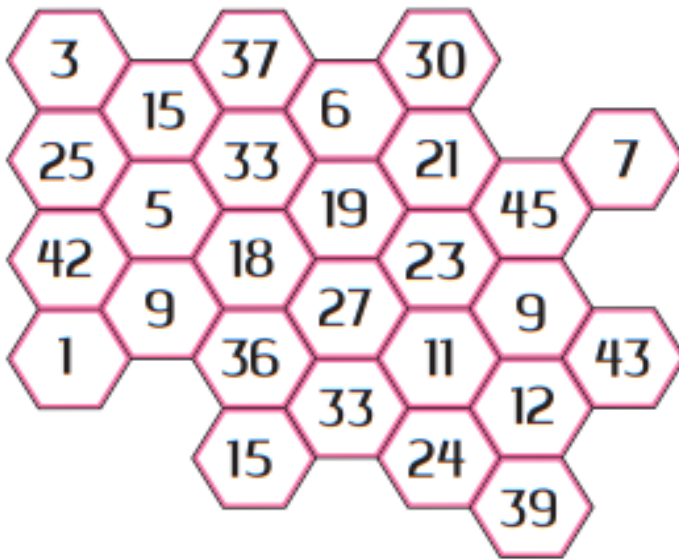


TABLA DEL 3

PRÁCTICAS DE CLASE

TABLA DEL 3

 Colorea los múltiplos del 3 y ubícalos en orden en el camino del número



$3 \times 2 =$	
$3 \times 6 =$	
$3 \times 3 =$	
$3 \times 9 =$	
$3 \times 1 =$	
$3 \times 5 =$	
$3 \times 4 =$	
$3 \times 8 =$	
$3 \times 7 =$	
$3 \times 10 =$	

Completa la Ruleta 

Resuelve las Operaciones 



Tabla del 3



Colorea los múltiplos del 3.

↓

3	17	13	37	49	31
6	9	34	13	46	25
49	12	15	10	29	23
1	2	5	18	21	24
11	17	41	13	27	30

→

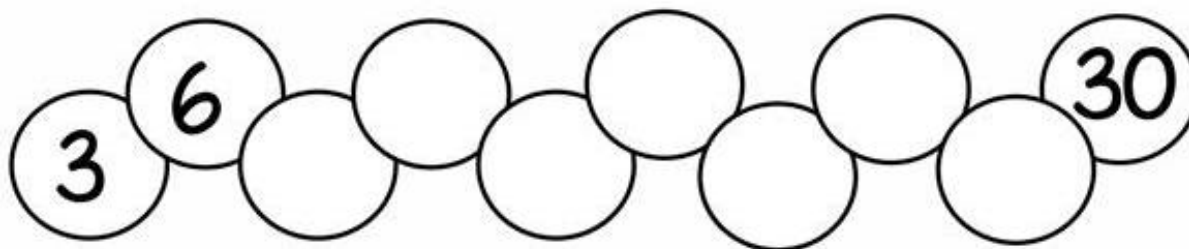
Completa la secuencia de los múltiplos del 3.

0	→	3	→		→		→		→		→		→		→		→	27	→	
---	---	---	---	--	---	--	---	--	---	--	---	--	---	--	---	--	---	----	---	--

Completa la rueda.

Resuelve las operaciones.

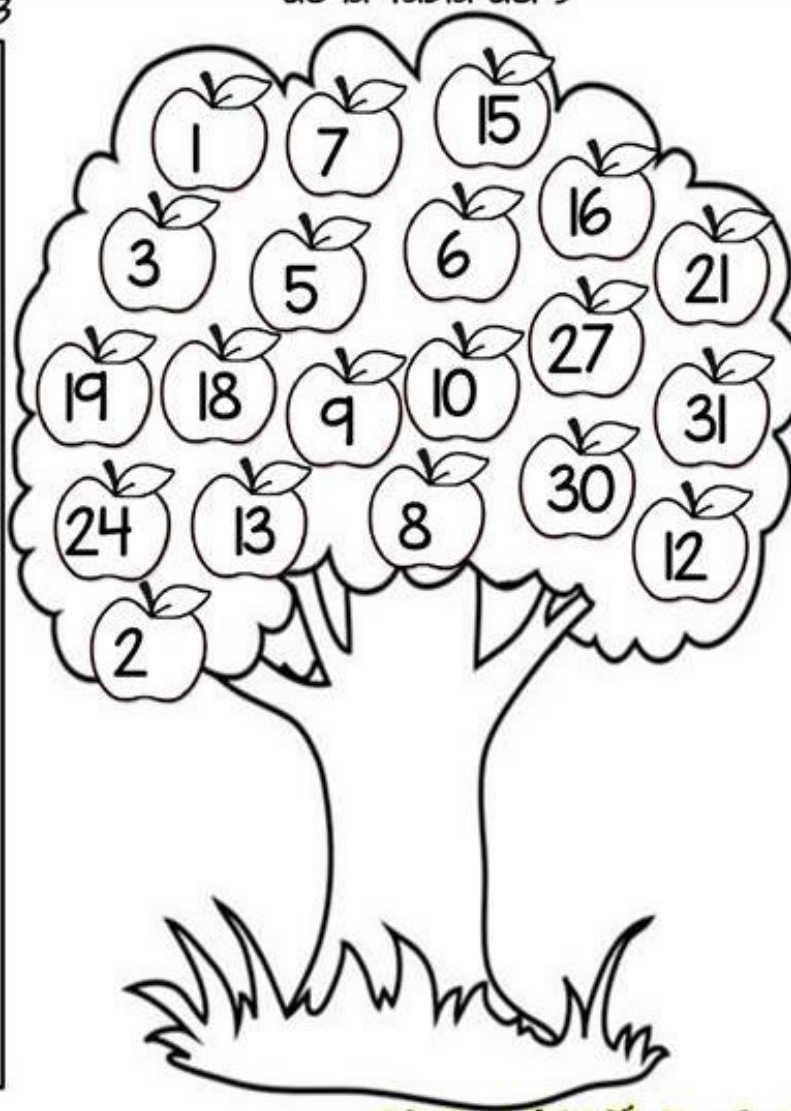
- $3 \times 2 = \underline{\quad}$
- $3 \times 4 = \underline{\quad}$
- $3 \times 3 = \underline{\quad}$
- $3 \times 5 = \underline{\quad}$
- $3 \times 6 = \underline{\quad}$
- $3 \times 7 = \underline{\quad}$
- $3 \times 9 = \underline{\quad}$
- $3 \times 8 = \underline{\quad}$
- $3 \times 1 = \underline{\quad}$
- $3 \times 10 = \underline{\quad}$



Colorea las manzanas de los resultados de la tabla del 3

Completa la tabla del 3

$3 \times 1 =$	<input type="text"/>
$3 \times 2 =$	<input type="text"/>
$3 \times 3 =$	<input type="text"/>
$3 \times 4 =$	<input type="text"/>
$3 \times 5 =$	<input type="text"/>
$3 \times 6 =$	<input type="text"/>
$3 \times 7 =$	<input type="text"/>
$3 \times 8 =$	<input type="text"/>
$3 \times 9 =$	<input type="text"/>
$3 \times 10 =$	<input type="text"/>





¿Cuántos peldaños saltó?

● **Completá,** con la suma, la tabla y el resultado correcto.

$3 \times 1 =$
 $3 \times 2 =$
 $3 \times 3 =$
 $3 \times 4 =$
 $3 \times 5 =$
 $3 \times 6 =$
 $3 \times 7 =$
 $3 \times 8 =$
 $3 \times 9 =$
 $3 \times 10 =$

¡Seguimos a los saltos!

Para saltar de una orilla a la otra, este sapo sólo puede pisar las rocas con los resultados de la tabla del 3. ● **Pintalas.**

0, 3, 4, 5, 6, 9, 12, 15, 16, 17, 18, 21, 24, 25, 27, 30, 31

	3			12				24	27	
0			9				21			30
		6			15				27	
	3			12		18				30
			9				21	24		
0		6							27	
				12	15					30
	3		9			18		24	27	
0		6	9		15		21	24		
						18			27	
	3	6			15					30
0			9	12			21			
						18			27	
0		6	9	12				24		
	3	6					21			30
0			9		15	18			27	
0		6		12			21			30
	3		9			18		24		
0		6			15		21		27	

Completa el círculo multiplicando el número en el centro por el anillo intermedio para conseguir los números externos.

